

SULIT



JABATAN PELAJARAN WILAYAH PERSEKUTUAN
KUALA LUMPUR

**UJIAN DIAGNOSTIK
PENILAIAN MENENGAH RENDAH 2009**

21/1

SEJARAH

Kertas 1

Mei

1¼ jam

Satu jam lima belas minit

JANGAN BUKA KERTAS SOALAN INI SEHINGGA DIBERITAHU

1. *Kertas soalan ini mengandungi 60 soalan*
2. *Jawab semua soalan.*
3. *Tiap-tiap soalan diikuti oleh empat cadangan jawapan yang berhuruf A, B, C, dan D. Bagi tiap-tiap soalan pilih satu jawapan sahaja. **Hitamkan** jawapan anda pada kertas objektif yang disediakan.*
4. *Jika anda hendak menukar sesuatu jawapan, padamkan sehingga bersih tanda yang tidak dikehendaki itu dan **hitamkan** pilihan anda yang baru.*

Kertas soalan ini mengandungi 17 halaman bercetak

WWW.ANDREWCHOO.EDU.MY

1 Maklumat di bawah merujuk kepada sumber pertama.

X
Tinggalan haiwan yang wujud pada zaman silam

Apakah X?

- | | |
|-----------|-----------------|
| A Fossil | C Manuskrip |
| B Artifak | D Batu bersurat |


2 Senarai di bawah merujuk kepada sumber sejarah.

- | |
|---|
| <ul style="list-style-type: none">• Buku• Majalah• Ensiklopedia |
|---|

Sumber tersebut ialah

- | | |
|-----------------|--------------------|
| A sumber lisan | C sumber sekunder |
| B sumber primer | D sumber arkeologi |

3 Gambar 1 di bawah menunjukkan pengebumian manusia Zaman Neolitik yang ditemui di Gua Cha, Kelantan.



Gambar 1

Apakah rumusan kamu berdasarkan gambar tersebut?

- | | |
|--------------------------|-----------------------------------|
| A Penggunaan alat batu | C Penghasilan barang kemas |
| B Penciptaan alat gangsa | D Perkembangan teknologi tembikar |

4 Gambar 2 di bawah menunjukkan peralatan pada Zaman Logam. Apakah nilai yang boleh dihayati daripada penciptaan logam tersebut?



Gambar 2

- | |
|--------------|
| A Adil |
| B Amanah |
| C Kreativiti |
| D Muafakat |

5 Apakah rumusan anda berdasarkan penemuan artifak pada zaman kerajaan Kedah Tua berikut?

- Manik dari India
- Barangan kaca dari Timur Tengah
- Wang perak zaman pemerintahan Sultan al-Mutawakil

- A Kekayaan hasil bumi
B Kewujudan pengaruh Islam
C Kemajuan pelabuhan entrepot
D Kecekapan sistem pentadbiran

6 Monolog berikut mungkin berlaku di Temasik pada tahun 1400.

Parameswara : Tempat ini berpotensi untuk dimajukan berdasarkan kedudukannya yang strategik kerana menjadi laluan kapal dagang

Apakah ciri kepimpinan yang ditonjolkan oleh Parameswara?

- A Bersifat adil
B Bertolak ansur
C Bertimbang rasa
D Berpandangan jauh

7 Apakah peranan pedagang Melaka ketika menunggu peralihan angin monsun?

- A Menjadi orang perantaraan
B Membuka pusat perdagangan
C Mengumpul barang dagangan
D Mengawal kawasan perkapalan

8 Apakah usaha yang dilakukan oleh Sultan Muzaffar Shah untuk menjadikan Melaka sebuah empayar yang luas?

- A Menakluki kawasan sekitar
B Membuka penempatan baru
C Mengawal laluan perdagangan
D Menghapuskan ancaman lanun

9 Rajah 1 menunjukkan arah pergerakan Sultan Mahmud Shah, pembesar dan rakyat Melaka selepas kejatuhan Melaka ke tangan Portugis.



Rajah 1

Apakah X?

- A Riau
B Lingga
C Bentan
D Kota Tinggi

10 Maklumat berikut berkaitan dengan pembesar kerajaan Johor.

- Tun Sri Lanang
- Laksamana Tun Abdul Jamil

Apakah persamaan tokoh tersebut?

- A Menyusun sistem cukai
- B Menawan semula Melaka
- C Memajukan pelabuhan negeri
- D Memperkenalkan jawatan Yamtuan Muda

11 Persaingan antara Johor, Aceh dan Portugis menyebabkan berlakunya Perang Tiga Segi.

Mengapakah Aceh menyerang Johor?

- A Menguasai pentadbiran
- B Memonopoli bahan mentah
- C Menghalang perluasan kuasa
- D Menjamin kemajuan perdagangan

12 Sultan Kedah menghantar 'bunga emas' kepada Siam setiap tiga tahun sekali. Mengapakah baginda berbuat demikian?

- A Memperoleh kekayaan hasil bumi
- B Memastikan keselamatan negerinya
- C Mempunyai pelabuhan yang strategik
- D Menjamin kelicinan urusan pentadbiran

13 Dialog di bawah mungkin berlaku dalam kalangan masyarakat Melayu tradisional.

Maimun : Orang yang bersalah harus dihukum agar sedar dan insaf.
Mamat : Hukuman ini bertujuan untuk pemulihan

Dialog tersebut berkaitan

- A Adat Perpatih
- B Adat Temenggung
- C Undang-undang Kedah
- D Undang-undang Pahang

14 Apakah kaum yang mengamalkan perayaan berikut?

- | |
|--|
| <ul style="list-style-type: none">• Perayaan Gawai• Pesta Menuai Padi |
|--|

- A Iban
- B Kayan
- C Kenyah
- D Melanau

15 Senarai berikut merupakan bentuk hukuman yang diamalkan oleh masyarakat Kadazandusun di Sabah.

- | |
|---|
| <ul style="list-style-type: none">• Babas• Sogit• Kepanasan |
|---|

Apakah tujuan hukuman tersebut dilaksanakan?

- A Memupuk kecekan
B Mengeratkan hubungan
C Menyemai sifat keberanian
D Menanam semangat berdikari

16 Mengapakah pedagang Negeri-Negeri Selat (NNS) mengambil tindakan berikut?

Tahun	Peristiwa
1873	Seramai 243 orang pedagang NNS menulis surat kepada Lord Kimberley.

- A Keselamatan terganggu
B Kegiatan lanun tidak terkawal
C Kekurangan sumber kewangan
D Keadaan politik yang tidak stabil

17 Apakah kesan peristiwa berikut kepada Tanah Melayu?

Pada tahun 1897, Sultan Kelantan telah memberikan konsesi tanah seluas 776996 hektar kepada *Duff Development Company*.

- A Perluasan pengaruh British
B Peningkatan kegiatan pertanian
C Penghapusan sistem percukaian
D Penguasaan Siam dalam pentadbiran

18 Apakah usaha Tunku Mahmud untuk mengekalkan identiti negeri Kedah?

- I Durbar ditubuhkan
II Kalendar hijrah digunakan
III Cuti umum pada hari Jumaat
IV Perlembagaan negeri digubal
- A I dan II
B I dan IV
C II dan III
D III dan IV

19 Maklumat berikut menunjukkan kekayaan hasil bumi di Sarawak pada kurun ke-19?

- Emas
- Antimoni

Apakah nilai yang boleh kita hayati?

- A Berdikari
B Bersyukur
C Beramanah
D Bertanggungjawab

20 Dialog berikut mungkin berlaku di Istana Brunei pada tahun 1830-an.

Sultan Omar Ali Saifuddin : Kumpulkan askar Brunei ke Sarawak
Pangeran Muda Hashim : Menjunjung titah Tuanku

Mengapakah baginda bertitah demikian?

- A Mengawal laluan perdagangan
- B Memajukan kegiatan perdagangan
- C Menghalang perluasan kuasa asing
- D Menamatkan kebangkitan orang tempatan

21. Apakah kesan perjanjian berikut terhadap negeri Sarawak?

Perjanjian antara Pangeran Raja Muda Hashim dengan James Brooke pada tahun 1841

- A Pengaruh Brunei merosot
- B Pelaburan Eropah bertambah
- C Peningkatan taraf hidup rakyat
- D Pembangunan sistem pendidikan

22. Apakah peranan pembesar berikut dalam pentadbiran keluarga Brooke?

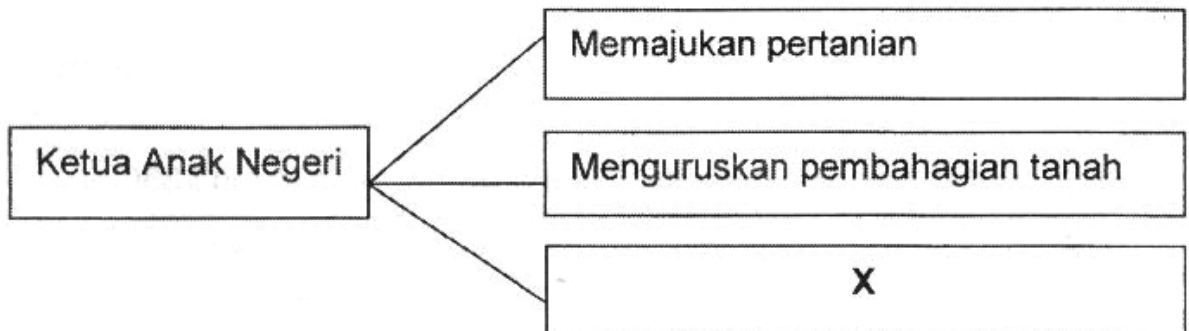
- Datu Bandar
- Datu Patinggi
- Datu Temenggung

- A Mengetuai operasi ketenteraan
- B Memajukan ekonomi tradisional
- C Menasihati tentang adat tempatan
- D Menguruskan pembahagian tanah

23. Apakah kesan pemberian piagam kepada Persatuan Sementara Borneo Utara British Berhad terhadap Sabah?

- A Menghapuskan ancaman lanun
- B Mengurangkan pelaburan asing
- C Menamatkan pemberontakan penduduk
- D Menghalang pertapakan kuasa Barat lain

24. Rajah 2 di bawah menunjukkan peranan Ketua Anak Negeri semasa pentadbiran Syarikat Berpiagam Borneo Utara di Sabah.



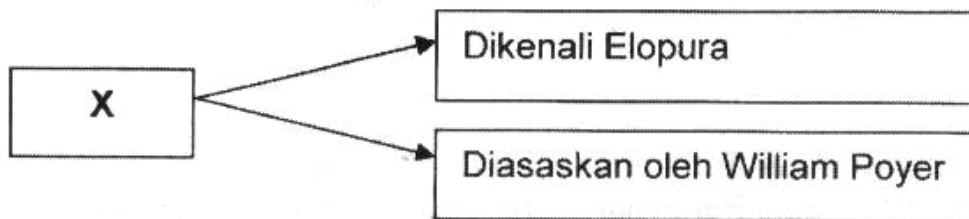
Rajah 2

Apakah X?

- A Mengawal residensi
- B Menjaga keamanan

- C Menasihati Pegawai Daerah
- D Mengetuai Jabatan Buruh

25 Rajah 3 di bawah menerangkan sebuah bandar di Sabah.



Rajah 3

Apakah X?

- A Kudat
- B Sandakan

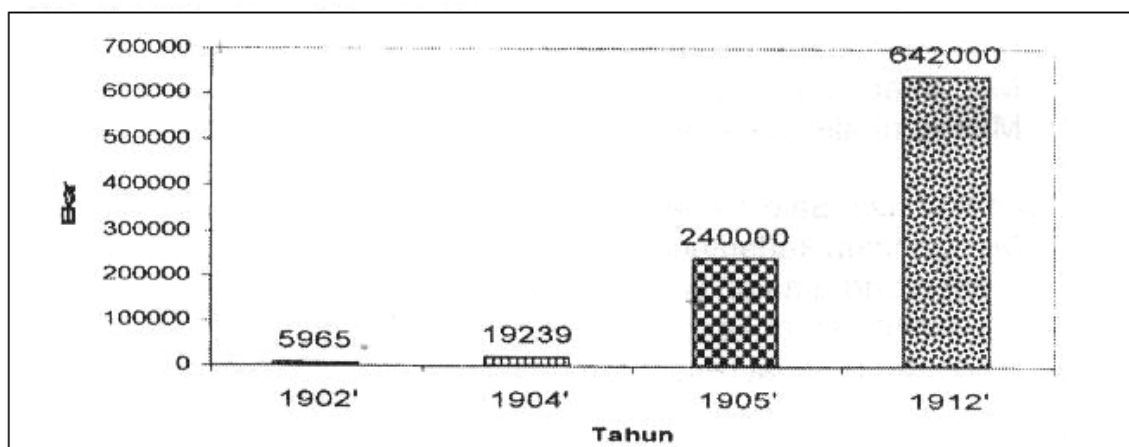
- C Jesselton
- D Lahad Datu

26 Mengapakah tanaman tradisional berikut berkembang pesat di Tanah Melayu pada awal kurun ke-20?

- Tebu
- Nanas
- Ubi kayu

- A Memiliki teknologi moden
- B Mendapat dorongan pembesar
- C Memperolehi pasaran yang baik
- D Menerima modal yang mencukupi

27 Graf 1 di bawah menunjukkan keluasan ladang getah di Tanah Melayu antara tahun 1901-1912.



Graf 1

Mengapakah ladang getah berkembang pesat dalam tempoh tersebut?

- A Kemasukan buruh India
- B Penggunaan teknologi moden
- C Kemerosotan penanaman kelapa
- D Permintaan terhadap getah meningkat

28 Mengapakah kerajaan British mengambil tindakan berikut pada tahun 1920-an dan 1930-an?

- Memperkenalkan Rancangan Sekatan Stevenson
- Menandatangani Perjanjian Peraturan Getah Antarabangsa

- A Menstabilkan harga getah
 B Memelihara mutu susu getah
 C Memperbaiki cara penanaman getah
 D Mengurangkan penggunaan getah tiruan

29 Rajah 4 berikut menunjukkan perubahan nama bandar di Perak.



Rajah 4

Mengapakah perubahan tersebut berlaku?

- A Kekayaan bijih timah
 B Menghargai jasa tokoh
 C Kemasukan buruh Cina
 D Berakhirnya Perang Larut

30 Mengapakah Tunku Abdullah, mengambil tindakan berikut pada tahun 1823?

Tunku Abdullah memimpin 3000 orang askar Kedah menentang Siam

- A Meluaskan wilayah
 B Mengawal perdagangan
 C Menamatkan kutipan cukai
 D Mengembalikan kedaulatan Negara

31 Mengapakah Dol Said menentang British di Naning?

- A Mengancam kedaulatan wilayah
 B Menentang amalan perhambaan
 C Melarang pembukaan tanah baru
 D Mencampuri adat resam tempatan

32 Jadual 1 berikut menerangkan perjuangan menentang penjajahan British.

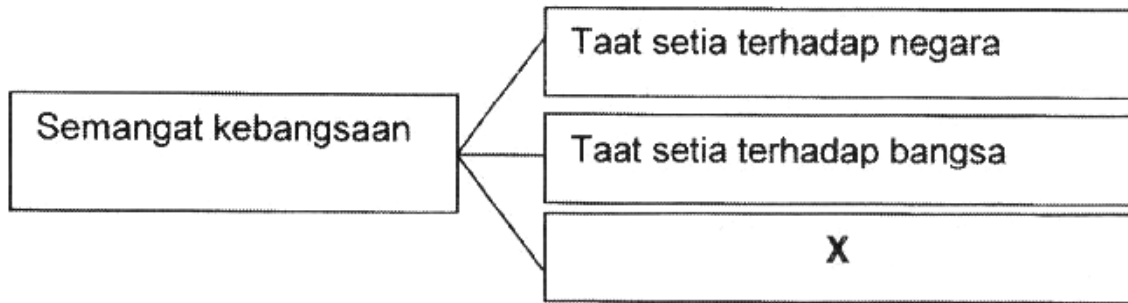
Peristiwa	Tokoh
Menyerang balai Polis, Lubuk Terua	Dato' Bahaman
Membakar Pulau Gaya	X

Jadual 1

Siapakah X

- A Antanom
 B Mat Salleh
 C Sharif Sahab
 D Sharif Masahor

33 Rajah 5 di bawah menerangkan maksud semangat kebangsaan.



Rajah 5

Apakah X?

- A Menyayangi diri
 B Menghormati jiran
 C Mencintai tanah air
 D Menghargai budaya

34 Maklumat di bawah menerangkan tokoh yang mempelopori Gerakan Islah di Mesir.

- Sayid Jamaluddin al-Afghani
- Syeikh Muhammad Abduh

Apakah tujuan gerakan tersebut?

- I Mengetepikan adat resam
 II Menyatukan seluruh umat Islam
 III Menentang penjajahan kuasa asing
 IV Menekankan pentingnya ilmu pengetahuan
- A I dan II
 B I dan IV
 C II dan III
 D III dan IV

35 Maklumat di bawah menunjukkan novel yang diterbitkan sebelum Perang Dunia Kedua.

Penulis	Novel
Ishak Haji Muhammad	<ul style="list-style-type: none"> • Putera Gunung Tahan • Anak Mat Lela Gila

Apakah mesej yang disampaikan dalam novel tersebut?

- A Menentang penjajahan British
 B Mewujudkan perpaduan kaum
 C Menyeru diadakan kongres Melayu
 D Menggalakkan penubuhan parti politik

36 Senarai berikut menerangkan masalah ekonomi yang dihadapi oleh negara Jepun semasa pemerintahan Maharaja Meiji.

- Mencari pasaran baru
- Kekurangan bahan mentah
- Kekurangan kawasan pertanian

Bagaimanakah Jepun mengatasi masalah tersebut?

- A Mencipta teknologi baru
- B Menjalin hubungan diplomatik
- C Memohon bantuan dari negara luar
- D Menjalankan dasar perluasan kuasa

37 Mengapakah Jepun menggunakan slogan berikut semasa Perang Dunia Kedua?

- Semangat Asia
- Asia Untuk Orang Asia

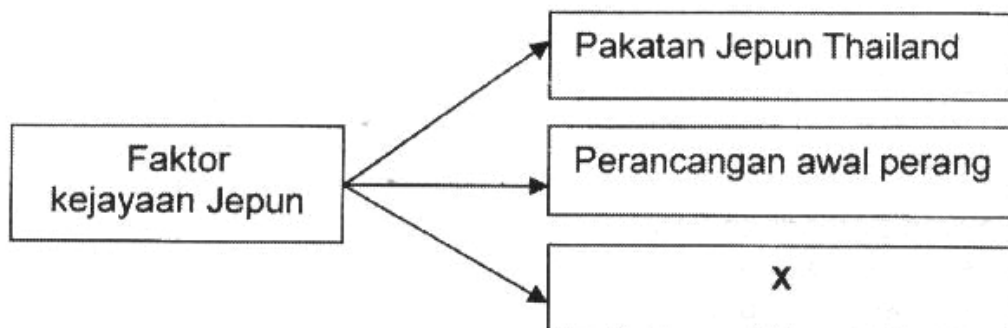
- A Memerdekakan negara Asia
- B Mendapatkan sokongan tempatan
- C Mewujudkan semangat perpaduan
- D Memudahkan urusan pentadbiran

38 Mengapakah Jepun menyerahkan negeri berikut kepada Thailand selepas berjaya menguasai Tanah Melayu pada tahun 1940-an?

- Perlis
- Kedah
- Kelantan
- Terengganu

- A Membekalkan senjata
- B Memberikan laluan tentera
- C Memperoleh maklumat sulit
- D Menghalang bekalan makanan

39 Rajah 6 menunjukkan faktor-faktor kejayaan Jepun menguasai Tanah Melayu.



Rajah 6

Apakah X?

- A Mempunyai tentera yang ramai
- B Menerima bantuan daripada Belanda
- C Memperoleh sokongan pembesar tempatan

D Mendapat kerjasama Kesatuan Melayu Muda (KMM)

40 Apakah ciri persamaan pertubuhan berikut?

- Force 136
- Gerila Kinabalu
- Askar Melayu Setia

- A Menentang penjajahan Jepun
- B Menyebarkan fahaman komunis
- C Menggalakkan perpaduan kaum
- D Menolak dasar pentadbiran British

41 Mengapakah Jepun mengambil tindakan berikut kepada penduduk tempatan pada tahun 1940-an?

Setiap keluarga hanya dibenarkan memiliki dua gantang beras untuk sebulan

- A Mengawal inflasi
- B Menyekat eksport beras
- C Mengawal bekalan makanan
- D Menanam sikap berjimat cermat

42 Apakah tujuan British memperkenalkan Malayan Union pada tahun 1946?

- A Menamatkan penjajahan
- B Menguasai perdagangan
- C Memantapkan perpaduan
- D Mengukuhkan pertahanan

43 Apakah peranan akhbar berikut dalam penentangan Malayan Union?

- Majlis
- Warta Negara
- Utusan Melayu

- A Menggalakkan perpaduan kaum
- B Menuntut kemerdekaan tanah air
- C Menyeru pembentukan parti politik
- D Menentang penubuhan Persekutuan Tanah Melayu

44 Bagaimanakah cara penentangan pegawai British berikut terhadap Malayan Union?

- Sir Frederick Weld
- Sir Cecil Clementi Smith

- A Menulis dalam akhbar
 B Menyertai rapat umum
 C Menghantar surat bantahan
 D Memulau perlantikan Gabenor

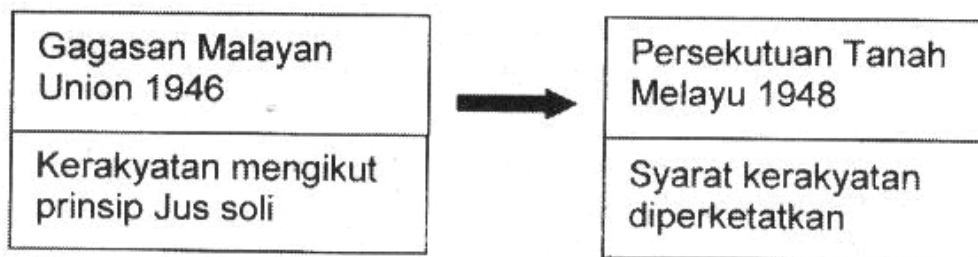
45 Berikut adalah tokoh yang memperjuangkan UMNO.

- Dato' Onn Jaafar
- Dato' Nik Ahmed Kamil
- Dato' Panglima Bukit Gantang

Apakah tugas tokoh tersebut?

- A Mencipta logo UMNO
 B Menubuhkan cawangan UMNO
 C Menggubal perlembagaan UMNO
 D Memujuk orang Melayu menyertai UMNO

46 Rajah 7 menunjukkan perubahan berkaitan kerakyatan di Tanah Melayu antara tahun 1946 dan 1948.



Rajah 7

Mengapakah perubahan tersebut berlaku?

- A Tekanan golongan imigran
 B Desakan daripada negara luar
 C Kritikan pegawai kanan British
 D Bantahan oleh masyarakat Melayu

47 Mengapakah tokoh berikut mengasaskan fahaman komunisme?

Karl Marx telah mengasaskan fahaman komunisme pada pertengahan abad ke-19.

- A Menolak amalan perhambaan
 B Menghapuskan sistem percukaian
 C Menamatkan kekejaman pemerintah
 D Menentang penguasaan golongan feodal

- 48 Apakah keuntungan yang diperolehi oleh Parti Komunis Malaya (PKM) apabila bekerjasama dengan British untuk menentang Jepun?
- A Membuka petempatan baru
 - B Mengambil alih pentadbiran
 - C Memperolehi bekalan senjata
 - D Mendapat latihan kepimpinan

- 49 Apakah tujuan British membuat pengisytiharan berikut?

Tahun	Peristiwa
Jun 1948	Darurat diisytiharkan di seluruh Tanah Melayu selepas pengganas komunis membunuh tiga orang pengurus ladang berbangsa Eropah di Sungai Siput.

- A Menyekat kebebasan akhbar
 - B Menggagalkan kerjasama kaum
 - C Melaksana pemerintahan tentera
 - D Melindungi kepentingan ekonomi
- 50 Pernyataan di bawah menunjukkan usaha British untuk memulihkan keamanan negara melalui penubuhan *Home guard*.

Anggota *Home Guard* merupakan masyarakat kampung yang terdiri daripada kaum lelaki dan perempuan

Apakah nilai yang boleh diperolehi daripada tindakan tersebut?

- A Bertolak ansur dalam tindakan
 - B Bekerjasama untuk keamanan
 - C Bersatu padu menentang penjajah
 - D Berbangga dengan kekuatan pertahanan
- 51 Pernyataan di bawah berkaitan dengan sistem pendaftaran kebangsaan.

Setiap penduduk berumur 12 tahun atau lebih mesti didaftarkan dan diberi kad pengenalan

Mengapakah British memperkenalkan sistem tersebut?

- A Melicinkan pemberian makanan
- B Memantau pergerakan penduduk
- C Membuat bancian masyarakat imigran
- D Memudahkan pembinaan kampung baru

52 British telah melancarkan kempen “memenangi hati dan fikiran rakyat” pada tahun 1950-an.

Apakah kejayaan yang dicapai dalam kempen tersebut?

- A Menamatkan peristiwa darurat
- B Memperkuatkan pertahanan negara
- C Memperbaiki taraf hidup masyarakat
- D Meningkatkan perpaduan di kalangan rakyat

53 Jadual di bawah berkaitan mereka yang terlibat dalam Pertemuan Baling pada tahun 1955.

Wakil kerajaan	Wakil PKM
<ul style="list-style-type: none">• David Marshall• Tun Tan Cheng Lock• Tunku Abdul Rahman	<ul style="list-style-type: none">• Chin Peng• Chien Tien• Rashid Maidin

Apakah tuntutan yang dikemukakan oleh PKM?

- A Memohon pengampunan ahli
- B Mengekalkan kerakyatan ahli
- C Mengiktiraf sebagai pertubuhan politik
- D Menuntut jawatan penting dalam pentadbiran

54 Mengapakah perpaduan kaum penting sebelum Tanah Melayu mencapai kemerdekaan?

- I Menjamin kestabilan politik
 - II Memperkayakan warisan bangsa
 - III Mengukuhkan kedudukan pemerintah
 - IV Mewujudkan keharmonian masyarakat
- A I dan II C II dan III
B I dan IV D III dan IV

55 Maklumat di bawah menunjukkan persetujuan yang dicapai antara UMNO dan Jawatankuasa Hubungan Antara Kaum.

<ul style="list-style-type: none">• Bantuan ekonomi kepada orang Melayu• Melonggarkan syarat kerakyatan persekutuan
--

Apakah pengajaran yang dapat diambil daripada rundingan tersebut?

- A Menghargai jasa pemimpin negara
- B Kekayaan negara dikongsi bersama
- C Pemuaafakatan melalui semangat tolak ansur
- D Berganding bahu meninggikan maruah bangsa

56 Maklumat berikut menunjukkan parti yang ditubuhkan sebelum negara mencapai kemerdekaan.

- Parti Negara
- Independence of Malaya Party (IMP)

Apakah persamaan parti tersebut?

- A Menerima kerakyatan *jus soli*
- B Mewujudkan raja berperlembagaan
- C Membuka keahlian kepada semua kaum
- D Melaksanakan sistem pelajaran kebangsaan

57 Maklumat berikut berkaitan sekolah yang wujud di Tanah Melayu sebelum kemerdekaan.

- Sekolah Cina
- Sekolah Tamil
- Sekolah Melayu

Apakah kesan daripada kewujudan sekolah tersebut?

- A Perpaduan sukar diwujudkan
- B Pembangunan luar bandar terjejas
- C Perbelanjaan pendidikan meningkat
- D Pengendalian pentadbiran lebih seragam

58 Apakah tujuan Sistem Ahli diperkenalkan?

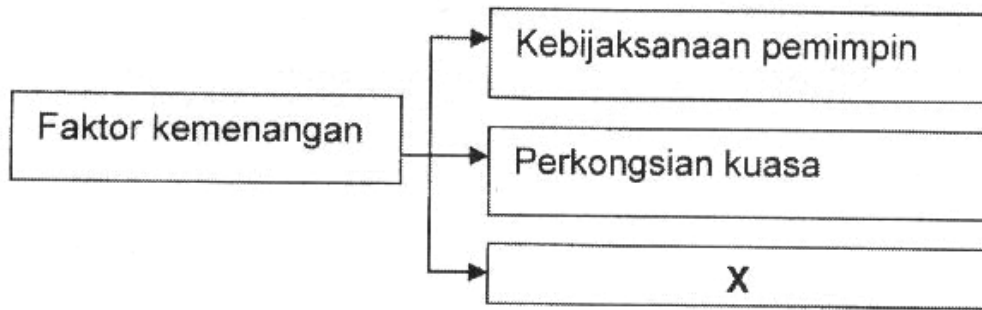
- A Mengembalikan kuasa pembesar tempatan
- B Mengekalkan ketaatan golongan imigran kepada kerajaan
- C Melatih orang Melayu dan masyarakat lain dalam pentadbiran
- D Menyemarakkan semangat kebangsaan dalam kalangan orang tempatan

59 Mengapakah agensi berikut ditubuhkan?

Tahun	Agensi
1951	Lembaga Pembangunan Industri Desa (RIDA)

- I Memasarkan hasil pertanian negara
 - II Meningkatkan taraf hidup orang Melayu
 - III Memujuk orang Melayu melonggarkan syarat kerakyatan
 - IV Menghapuskan pengenalan ekonomi mengikut kaum
- A I dan II
 - B I dan IV
 - C II dan III
 - D III dan IV

- 60 Rajah 8 di bawah menunjukkan faktor yang membawa kemenangan Parti Perikatan dalam Pilihan Raya Majlis Perundangan Persekutuan 1955.



Rajah 8

Apakah X?

- A Mendapat sokongan negara luar
- B Mengamalkan sikap bertolak ansur
- C Mempunyai pengalaman mentadbir
- D Memperolehi kewangan yang kukuh

PMR SEJARAH – UJIAN DIAGNOSTIK 2009 – JAWAPAN

1. A	11. D	21. A	31. A	41. C	51. B
2. C	12. B	22. C	32. B	42. D	52. D
3. D	13. A	23. D	33. C	43. B	53. C
4. C	14. A	24. B	34. C	44. A	54. B
5. C	15. B	25. B	35. A	45. C	55. C
6. D	16. D	26. C	36. D	46. D	56. C
7. A	17. A	27. D	37. B	47. D	57. A
8. A	18. C	28. A	38. B	48. C	58. C
9. C	19. B	29. D	39. D	49. D	59. C
10. B	20. D	30. D	40. A	50. B	60. B