

TINGKATAN 2 (BAB 7) : PERJUANGAN RAKYAT TEMPATAN MENGEMBALIKAN KEDAULATAN BANGSA

PMR 1995

Soalan 1 berdasarkan dialog di bawah.

Pegawai British:	Naning ialah sebahagian daripada Melaka. Naning perlu mematuhi perintah dan arahan pihak Inggeris di Melaka.
Penghulu Naning:	Tidak Naning sebuah negeri bebas dan tidak perlu bagi saya mematuhi sebarang perintah asing dari Melaka.

- 1 Penghulu Naning berkata sedemikian sebagai reaksi kepada tindakan pihak Inggeris
- A menghantar penasihatnya
 - B memperkenalkan cukai hasil tanah
 - C menyekat pedagang ke Melaka
 - D menghapuskan penggunaan hamba abdi

(JAWAPAN B: NOTA 2b)

Soalan 2 berdasarkan rajah di bawah.



- 2 Tokoh-tokoh di atas menentang Inggeris dalam memperjuangkan hak penduduk tempatan.
- Apakah kesan penentangan itu terhadap pihak Inggeris?
- A Mereka bersikap berhati-hati dalam tindak tanduknya

- B Mereka memberi hak mengutip cukai kepada pembesar
- C Mereka memperkenalkan sistem pentadbiran baru
- D Mereka melibatkan orang Melayu dalam pentadbiran

(JAWAPAN A: NOTA 5c iii)

Soalan 3 berdasarkan jadual di bawah.

Tahun	Peristiwa
April 1898	Mat Salleh menandatangani perjanjian damai dengan Kompeni Berpiagam Borneo Utara
September 1899	Mat Salleh dan pengikutnya berperang melawan Kompeni Berpiagam Borneo Utara

- 3 Daripada jadual di atas, dapat dilihat tentang perubahan pendirian Mat Salleh dalam hubungannya dengan Kompeni Berpiagam Borneo Utara. Mengapakah berlakunya perubahan pendirian tersebut?

- A Kompeni Berpiagam Borneo Utara mengambil alih Tambunan
- B Kompeni Berpiagam Borneo Utara menutup jalan ke Inanam
- C Kompeni Berpiagam Borneo Utara mengambil tanah di hulu Sungai Sugut
- D Kompeni Berpiagam Borneo Utara menandatangani perjanjian dengan Kesultanan Sulu

(JAWAPAN A: NOTA 8e)

Soalan 4 berdasarkan pernyataan di bawah.

Pada tahun 1915 telah berlaku konflik antara pembesar Kelantan dengan pihak British menyebabkan Tok Janggut terkorban.
Abdullah Zakaria b. Ghazali

- 4 Apakah punca utama konflik tersebut?
- A Penangkapan seorang ulama terkenal
 - B Pembinaan Balai Polis Pasir Puteh
 - C Pembunuhan Sarjan Che Wan
 - D Penghantaran surat saman kepada penduduk Pasir Puteh

(JAWAPAN C: NOTA 10b)

Soalan 5 berdasarkan peristiwa di bawah.

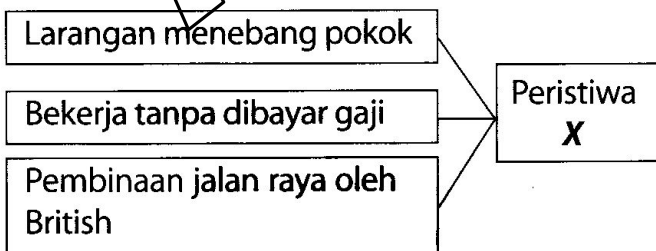
Negeri	Peristiwa
<ul style="list-style-type: none"> • Terengganu • Kelantan 	Kebangkitan Tok Janggut Kebangkitan Engku Besar Jeram

- 5 Mengapakah berlakunya kedua-dua peristiwa di atas?
- A Pengenalan cukai baru kepada penduduk tempatan
 - B Pengenalan undang-undang sekatan menebang pokok
 - C Penghapusan hak pungutan cukai di kalangan pembesar
 - D Penguatkuasaan undang-undang melarang membawa senjata

(JAWAPAN A: NOTA 10a ii)

PMR 1997

Soalan 6 berdasarkan rajah di bawah.



- 6 Rajah di atas menunjukkan sebab-sebab berlakunya peristiwa X di Sabah pada tahun 1915.

Apakah peristiwa X itu?

- A Penentangan Mat Salleh terhadap Kompeni Berpiagam
- B Pemberontakan orang Iban terhadap British
- C Pemberontakan orang Rundum
- D Penyerangan ke atas Ibu Pejabat Kompeni Berpiagam

(JAWAPAN C: NOTA 9b)

PMR 1998

- 7 Pada tahun 1831, British telah menyerang Nanning, tetapi dikalahkan oleh Penghulu Dol Said.

Apakah alasan British menyerang Nanning?

- I Nanning mengancam monopoli perdagangan British di Melaka
- II Nanning enggan mengiktirafkan pertuanan British di Melaka
- III Dol Said cuba menyatukan daerah Nanning dengan Rembau
- IV Penduduk Nanning enggan membayar cukai

- A I dan II
- B II dan III

- C III dan IV
- D I dan IV

(JAWAPAN C: NOTA 2c)

Soalan 8 berdasarkan pernyataan di bawah.

Residen British yang pertama di Perak dibunuh pada 2 November 1875.

- 8 Apakah kesan daripada peristiwa tersebut?
- A British menyerahkan semula kuasa pentadbiran kepada pembesar Melayu
 - B British berhati-hati apabila berurusan dengan pembesar Melayu
 - C British mengurangkan kegiatan perlombongan bijih timah di Perak
 - D British menuntut ganti rugi daripada Sultan Perak

(JAWAPAN B: NOTA 5c iii)

Soalan 9 berdasarkan pernyataan di bawah.

Pada tahun 1887 satu perjanjian antara Tunku Antah dengan British ditandatangani.

- 9 Perjanjian tersebut menyebabkan Tunku Antah
- A dilantik menjadi Yang Dipertuan Besar Negeri Sembilan
 - B diberi hak memungut cukai
 - C diberi semula kuasanya oleh Dato' Kelana
 - D diiktiraf sebagai Yamtuan Seri Menanti

(JAWAPAN A: NOTA 6c i)

PMR 1999

Soalan 10 berdasarkan dialog di bawah.

Pegawai British: Kamu tidak boleh mengerjakan tanah ini. Jika ingkar, kamu akan ditangkap!

Penduduk kampung: Mengapa? Tanah ini telah pun kami usahakan sejak dahulu lagi!

10 Dialog di atas mungkin berlaku di Hulu Terengganu pada tahun 1925.

Apakah punca yang menyebabkan pengucapan dialog itu?

- A Penduduk meneroka tanah tanpa kebenaran
- B British ingin menukar taraf pemilikan tanah
- C Penduduk enggan membayar cukai tanah
- D British ingin menguasai tanah pertanian

(JAWAPAN A: NOTA 11c)

PMR 2000

Tahun	Pusat Gerakan Kedah Menentang Penjajahan Siam
1823	Seberang Perai
1831	Melaka
1838	Melaka

1 Mengapakah semua usaha di atas gagal?

- A Siam bersatu dengan Burma
- B Siam mempunyai senjata moden
- C Siam mendapat bantuan British
- D Siam mempunyai kubu yang kuat

(JAWAPAN C: NOTA 1b)

PMR 2001

Soalan 11 berdasarkan senarai di bawah.

(JAWAPAN B: NOTA 9b i)

- Sultan Abdullah
- Dato' Maharaja Lela
- Pandak Indut
- Dato' Sagor

11 Apakah persamaan antara tokoh dalam senarai di atas?

- A Melanggar syarat perjanjian
- B Memulau pentadbiran British
- C Menentang campur tangan British
- D Membantah pemansuhan sistem pajakan

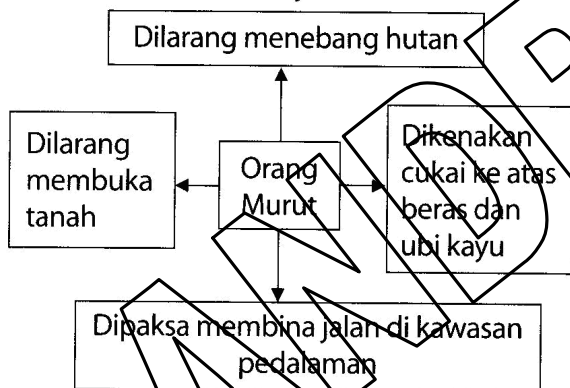
(JAWAPAN C: NOTA 5b ii)

12 Pada tahun 1831, Dol Said telah memimpin penduduk Naning untuk menentang British. Mengapa?

- A Menolak pengaruh kebudayaan British
- B Membantah pelantikan Penasihat British
- C Keengganan membayar cukai kepada British
- D Keinginan membebaskan diri daripada British

(JAWAPAN C: NOTA 2c)

Soalan 13 berdasarkan rajah di bawah.



13 Rajah di atas berkaitan dengan peristiwa penentangan tokoh tempatan terhadap Syarikat Borneo Utara British pada tahun 1915 di Sabah.

Apakah peristiwa tersebut?

- A Penentangan Rentap
- B Penentangan Antanom
- C Penentangan Mat Salleh
- D Penentangan Sharif Masahor

PMR 2002

Soalan 14 berdasarkan pernyataan di bawah.

British menuntut penduduk Naning membayar cukai sebanyak 1/10 daripada hasil mereka.

14 Berdasarkan pernyataan di atas, apakah alasan Dol Said untuk tidak memenuhi tuntutan British?

- A Naning tidak setuju dengan kadar cukai
- B Naning tidak mampu membayar cukai
- C Naning kekurangan hasil pertanian
- D Naning bukan jajahan Melaka

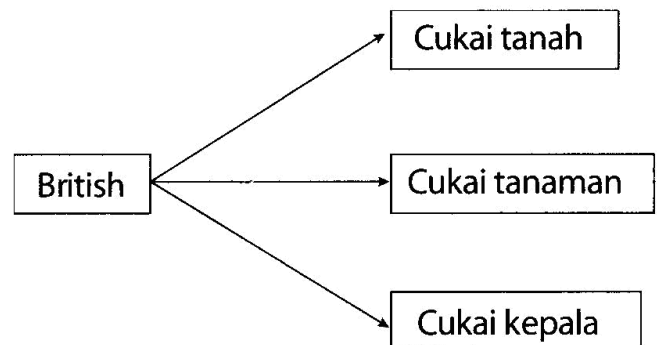
(JAWAPAN D: NOTA 2e)

15 Kebimbangan British terhadap penentangan penduduk tempatan di Kelantan dan Terengganu pada awal kurun ke-20 adalah kerana

- A unsur keagamaan
- B kelengkapan senjata
- C serangan secara gerila
- D penerimaan bantuan luar

(JAWAPAN A: NOTA 11g)

Soalan 16 berdasarkan rajah di bawah.



16 Apakah kesan daripada pengenalan sistem cukai di atas pada tahun 1910?

- A Penentangan Mat Salleh di Sabah
- B Penentangan Tok Janggut di Kelantan
- C Penentangan Dato' Bahaman di Pahang
- D Penentangan Sharif Masahor di Sarawak

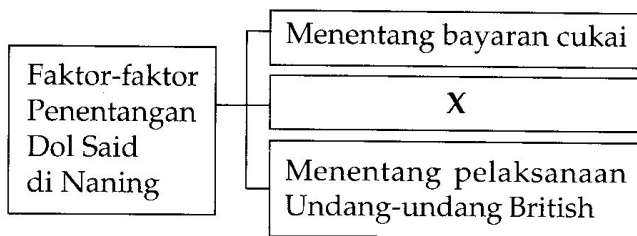
(JAWAPAN B: NOTA 10a ii)

PMR 2005

Tahun	Peristiwa
1823	Tunku Abdullah memimpin 3000 orang tentera untuk membebaskan Kedah daripada Siam tetapi gagal.

- 31 Berdasarkan maklumat di atas, usaha Tunku Abdullah menemui kegagalan kerana Siam
- A mendapat bantuan British
 - B menyekat bekalan makanan
 - C menggunakan taktik perang gerila
 - D membina kubu pertahanan yang kuat

(JAWAPAN A: NOTA 1b)



- 32 Berdasarkan rajah di atas, X ialah
- A menjaga kesucian agama
 - B menolak amalan buruh paksa
 - C mempertahankan kedaulatan daerah
 - D membantah perlucutan jawatan penghalu

(JAWAPAN C: NOTA 2c)

Tokoh	Peristiwa
X	<ul style="list-style-type: none"> • Menyerang kubu James Brooke di Nanga Sragang • Membunuh Allan Lee

- 33 Berdasarkan maklumat di atas, X ialah

- A Asun
- B Rentap
- C Banting
- D Sharif Masahor

(JAWAPAN B: NOTA 3c)

Tempat	Peristiwa
Perak	Dato' Maharaja Lela dihukum gantung
Sarawak	Sharif Masahor dibuang negeri ke Singapura
Kelantan	Mayat Tok Janggut diarak dan digantung songsang

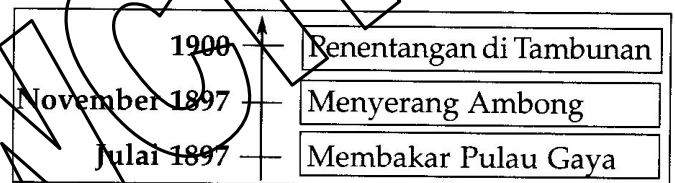
- 32 Jadual di atas menunjukkan kekejaman British kepada pejuang tempatan.

Apakah pengajaran daripada peristiwa tersebut?

- I Berwaspada terhadap anasir luar
- II Menghargai warisan budaya bangsa
- III Bekerjasama menegakkan undang-undang
- IV Memperkasa diri untuk kedaulatan bangsa

- A I dan II
- B II dan III
- C III dan IV
- D I dan IV

(JAWAPAN D: NOTA 1+12)



- 33 Garis masa di atas merujuk kepada perjuangan Mat Salleh menentang Syarikat Borneo Utara British (SBUB) di Sabah.

Mengapakah siri perjuangan tersebut berakhir di Tambunan?

- A SBUB memberi pampasan
- B SBUB menawarkan jawatan pentadbiran
- C Mat Salleh terkorban dalam pertempuran
- D Mat Salleh dijatuhi hukuman buang negeri

(JAWAPAN C: NOTA 8f)

J.W.W. Birch Residen Perak,
Membawa perubahan secara mendadak,
Timbul bara membuak-buak,
Terbunuhnya Birch di Pasir Salak

PMR 2006

- 34 Puisi di atas menerangkan penentangan rakyat akibat perubahan yang dilakukan oleh Residen British di Perak.

Apakah perubahan tersebut?

- I Mencabuli adat resam
- II Mengehadkan kuasa sultan

- III Melarang pembukaan tanah
- IV Merampas hak mengutip cukai
- A I, II dan III C I, III dan IV
- B I, II dan IV D II, III dan IV

(JAWAPAN B: NOTA 5a i ii iii)

PMR 2007

Pada tahun 1831, Dol Said telah berjaya menewaskan seratus lima puluh orang sepoi yang diketuai oleh Kapten Wyllie.

32 Pernyataan di atas merujuk kepada Perang Naning.

Apakah faktor kejayaan Dol Said?

- I Senjata moden
- II Bantuan pembesar
- III Taktik perang gerila
- IV Risikan berkesan
- A I dan II C III dan IV
- B II dan III D I dan IV

(JAWAPAN B: NOTA 2d)

Rentap membina kubu di paras ketinggian 2 725 kaki dari atas laut dan dipagari dengan kayu jenis belian di Bukit Sadok.

33 Pernyataan di atas merujuk kepada usaha Rentap dalam menghadapi ancaman Brooke.

Apakah nilai yang boleh dicontohi daripada usaha tersebut?

- A Bertoleransi dalam masyarakat
- B Bijak mengatur strategi
- C Berhima dalam kehidupan
- D Berwawasan dalam perjuangan

(JAWAPAN B: NOTA 3d)

PMR 2008

32 Mengapakah Tok Janggut, seorang tokoh pejuang tempatan, menentang British di Kelantan?

- A Pemecatan pembesar
- B Pengenalan cukai baru
- C Pengambilan buruh paksa
- D Penangkapan pengikut setia

(JAWAPAN B: NOTA 10a ii)

33 Mengapakah pembesar berikut berpakat untuk menggulingkan Charles Brooke di Sarawak?

• Sharif Masahor

• Temenggung Hashim

• Datu Patinggi Abdul Ghapur

- A Menghalang perluasan kuasa
- B Memelihara adat resam
- C Menyekat kemasukan imigran
- D Menentang amalan buruh paksa

(JAWAPAN A: NOTA 4)

PMR 2009

34 Monolog berikut berkaitan dengan penentangan Haji Abdul Rahman Limbong terhadap British di Terengganu pada tahun 1920-an.

Haji Abdul Rahman Limbong: Saya menentang penguatkuasaan undang-undang binatang buas, peraturan tanah baru dan pas kebenaran yang membebankan.

Mengapakah beliau bertindak demikian?

- A Mempertahankan kawasan
- B Menentang pemodenan
- C Membela nasib petani
- D Mempertahankan hak pembesar

(JAWAPAN C: NOTA 11a)

35 Maklumat berikut berkaitan dengan perjuangan seorang tokoh yang menentang British di Pahang.

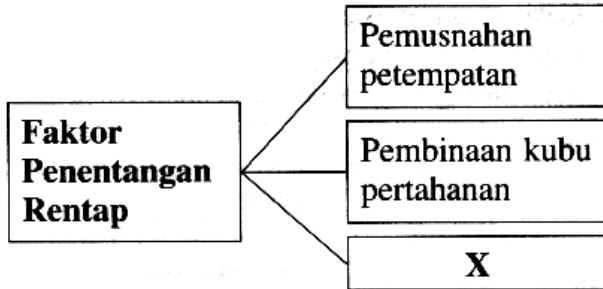
- Pembesar di Temerloh
- Menentang pelantikan Pegawai Majistret
- Bersumpah untuk menghalau British dari Pahang

Siapakah tokoh yang berkaitan dengan maklumat tersebut?

- A Dol Said
- B Tok Janggut
- C Dato' Maharaja Lela
- D Dato' Bahaman

PMR 2010

32 Rajah berikut menerangkan faktor penentangan Rentap terhadap pentadbiran Brooke di Sarawak.



Apakah X?

- A Amalan buruh paksa
- B Larangan menebang hutan
- C Pengambilalihan wilayah Kuching
- D Menganggap orang Iban sebagai lanun

(JAWAPAN D: NOTA 3b)

33 Peta berikut menunjukkan gerakan di luar negara yang berlaku pada awal kurun ke-20.



Apakah kesan gerakan tersebut ke atas Tanah Melayu?

- A Kemunculan semangat nasionalisme
- B Perpaduan penduduk berbilang kaum
- C Penuhunan pelbagai parti politik
- D Kehadiran kaum imigran

(JAWAPAN A: NOTA 2)

34 Pada tahun 1823, Tunku Abdullah dari Kedah merancang untuk menyerang Siam melalui Seberang Perai.

Mengapakah rancangan tersebut gagal?

- A Strategi yang lemah
- B Pengkhianatan British
- C Pembelotan tentera Bugis
- D Semangat juang yang rendah

(JAWAPAN B: NOTA 1c)

PMR 2011

30 Jadual berikut berkaitan dengan penentangan terhadap British di Perak.

Tarikh	Peristiwa
2 November 1873	Pembunuhan J.W.W. Birch di Pasir Salak

Mengapakah J.W.W. Birch dibunuh?

- I Memperkenalkan cukai baru
- II Mengharamkan amalan perhambaan
- III Melarang pembukaan tanah baru
- IV Menangkap penduduk tempatan

- A I dan II
- B I dan IV
- C II dan III
- D III dan IV

(JAWAPAN A: NOTA 5a i ii iii)